


日商 PC検定試験 2級知識科目サンプル問題

(文書作成分野)

NO	問題文	選択肢
1	色の三属性についての説明として正しいものを、次の中から選びなさい。	1.色相 :色みの強弱の度合いを言う 2.明度 :色の明るさの度合いを言う 3.彩度 :「青み」「赤み」など、色みの性質を言う
2	次のうち、事実を述べた文を選びなさい。	1.TVの天気予報で、「今日は五月晴れのさわやかな1日になるでしょう」と言っていた。 2.今日は、さわやかで気持ちがよい1日だった。 3.明日もよい天気が続くでしょう
3	ビジネス文書を作成するときの考え方として適切なものを、次の中から選びなさい。	1.必要な情報を正確に伝えるためには、文章の量が多くなってもかまわない。 2.図解はいろいろな解釈がなされることが多いので、ビジネス文書に使うのは好ましくない。 3.文書を読みやすくするためには、レイアウトを整えることも大事である。
4	ある会社の総務部の月報を電子メールで送る場合の件名として、最も適切なものを次の中から選びなさい。	1.月報 2.総務部月報 3.2006年6月度総務部月報
5	議事録を作成するときの留意点として正しいものを次の中から選びなさい。	1.議事録は記録性が大事なので、誰が何を発言したかを詳細に書く。 2.結論が出なかった会議の場合は、議事録を作成する必要はない。 3.議事録は、記録者の主観が入らないように気をつけながら書く。
6	中心にある要素から、周辺の複数の要素に影響が及ぶ様子を図解したいときに使うものはどれですか。次の中から選びなさい。	1.循環型の図解 2.放射型図解 3.収束型図解
7	プレゼンテーションの最後の「まとめ」の段階で行う必要があるのはどれですか。次の中から最も適切なものを選びなさい。	1.裏づけデータなどの根拠を示す。 2.具体的な事例を示す。 3.特に大事な点を確認する。
8	次の矢印の意味は何ですか。次の中から最も適切なものを選びなさい。 	1.相互作用 2.対立 3.拒絶
9	次の中で、誤った表現の慣用句を選びなさい。	1.下にも置かぬもてなし 2.おぜん立てをそろえる 3.屋上屋を架す

日商 PC検定試験 2級知識科目サンプル問題

10	次の中で、区切りの符号を使ったフォルダ名として最も適切なものを選びなさい。	1 .aaa/bbb/ccc 2 .aaa_bbb_ccc 3 .aaa+bbb+ccc
----	---------------------------------------	--

(データ活用分野)

NO	問題文	選択肢
1	紙に書かれた住所録を電子データにしたいが、入力時に注意すべき点として適切なものを次の中から選びなさい。	1.漢字は全角、英数字は半角など入力規則を決める。 2.宛名印刷するときに楽なように、名前の後ろに「様」をつけて入力する。 3.都道府県名は、入れてもいれなくてもよい。
2	売上げや仕入れなど数値データを含むデータを何と呼びますか。次の中から選びなさい。	1.定量データ 2.定性データ 3.定型データ
3	次のうち、目標達成率 (%)を求める数式はどれですか。	1.売上目標 ÷ 売上実績 × 100 2. (売上実績 - 売上目標) ÷ 売上実績 × 100 3.売上実績 ÷ 売上目標 × 100
4	コンビニやスーパーなどでよく見かける、販売記録や金銭記録などを販売時点で捉え、在庫管理やマーケティングに活用するシステムは何と呼ばれますか。次の中から選びなさい。	1. EDI 2. CRM 3. POS
5	今後の共通 EDプラットフォームで計画されているデータ交換のデータ形式はどれですか。次の中から選びなさい。	1. CSVデータ形式 2. 固定長データ形式 3. XMLデータ形式
6	平均気温と売上高の関係をみたいときなどに用いられる、互いに対応関係にあるデータを点で表示したグラフを何と呼ぶか。次の中から選びなさい。	1. レーダーチャート 2. 散布図 3. パレート図
7	住所録を電子データとして作成する場合、紙に書くときに比べてどのようなことに注意すべきですか。次の中から最も適切なものを選びなさい。	1.五十音順に整理してから入力する。 2.入力規則を決めてから入力する。 3.データが全部揃ってから入力する。

日商 PC検定試験 2級知識科目サンプル問題

8	電子認証の仕組みにおいて、秘密鍵と対になるものは何ですか。次の中から選びなさい。	1. 認証鍵 2. 公開鍵 3. 自由鍵
9	コンビニエンスストアは顧客 / 商品ポジショニングチャートではどのように分類されるでしょうか。次の中から選びなさい	1. 不特定客向レディメイト型 2. 特定客向オーダーメイト型 3. 不特定客向オーダーメイト型
10	ABC分析の手法は、どのような目的で用いられますか。次の中から選びなさい。	1. 売上と顧客訪問件数との相関関係を分析する 2. 顧客や商品の重要度を分析する 3. 売上の推移を分析する

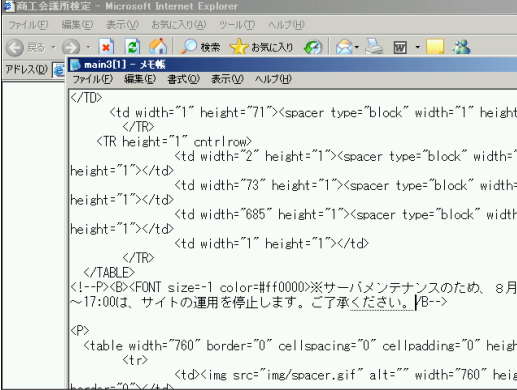

(共通分野)

NO	問題文	
1	基幹データとは、どのようなデータの何を言いますか。次の中から最も適切なものを選びなさい。	1. 図面データ 2. 契約書などの文書データ 3. 売上傳票のデータ
2	企業活動の基本的な3つの機能とは、製造活動、販売活動ともうひとつは何ですか。次の中から選びなさい。	1. 請求回収活動 2. 在庫管理活動 3. 事務 会計活動
3	ファイルの機密を保護するためにExcelやWordなどに備えられている基本機能はどれですか。次の中から選びなさい。	1. 電子署名して暗号化する。 2. パスワードをかけて保護する。 3. デジタルタイムスタンプを押す。
4	次の中から、ネットを活用した情報発信で最も注意すべきことを選びなさい。	1. スピード 2. 法令順守 3. 情報配信コスト
5	広告メールなどを配信する際、件名に必ず入れることが義務づけられている表記として正しいものはどれですか。次の中から選びなさい。	1. 未承諾 * 2. 未承諾広告 * 3. 未承諾広告

日商 PC検定試験 2級知識科目サンプル問題

6	コミュニケーションコストは、ブロードバンドによりどのようになりますか。次の中から最も適切なものを選びなさい。	<ul style="list-style-type: none"> 1.従量課金制 2.定額固定料金制 3.段階料金制
7	次のうち、企業活動のなかで、限りある資源(リソース)ではないものを選びなさい。	<ul style="list-style-type: none"> 1.従業員などの人材 2.応接室や車両などの設備 3.築き上げたブランド名
8	ネットワークを介したコンピュータ同士のデータ通信で用いられる取り決めのことを何と呼びますか。次の中から選びなさい。	<ul style="list-style-type: none"> 1.ドメイン 2.プロトコル 3.ポリシー
9	無線 LANにおいて、有線 LANにおけるHUBの役割をするものは何ですか。次の中から選びなさい。	<ul style="list-style-type: none"> 1.ルーター 2.モデム 3.アクセスポイント
10	仕事の生産性が上がるとは、どのようなことを言いますか。次の中から最も適切なものを選びなさい。	<ul style="list-style-type: none"> 1.安いコストで仕事ができること。 2.IT活用でどこでも仕事ができること。 3.単位時間の中での作業密度が高いということ。
11	電子データ中心の仕事の進め方で注意すべきことは何ですか。次の中から最も適切なものを選びなさい。	<ul style="list-style-type: none"> 1.きれいに印刷できるレイアウトにいつも注意する。 2.入力した電子データを他の人も活用できることを意識する。 3.絵文字などを使って表現豊かな文書を心がける。
12	Shiftキーを押しながら操作するときの意味はどれですか。適切なものを次の中から選びなさい。	<ul style="list-style-type: none"> 1.連続選択 2.複写選択 3.不連続選択
13	WEB上に現在進行中のプロジェクトと関係する情報があったので関係者に知らせようと思います。次の中で最も適切な方法を選びなさい。	<ul style="list-style-type: none"> 1.情報のあるページのURLを電子メールに貼り付けて連絡した。 2.情報のあるページをPDF形式にして配付した。 3.情報のある部分をコピー＆ペーストして電子メールで送信した。
14	PDF形式で作成した文書の特徴として適切なものはどれですか。次の中から選びなさい。	<ul style="list-style-type: none"> 1.拡大 縮小表示ができない。 2.レイアウトを変更することができない。 3.文書にパスワードを設定することができない。
15	音声や音楽などのサウンドデータは非可逆圧縮で処理しデータ量を少なくしますが、その代表的なファイル形式は次のうちどれですか。	<ul style="list-style-type: none"> 1.MP3形式 2.MPEG形式 3.JPEG形式

日商 PC検定試験 2級知識科目サンプル問題

16	<p>電子メールを利用する上で、今後注意すべき点は何ですか。次の中で最も適切なものを選びなさい。</p>	<ol style="list-style-type: none"> 1. 不要なメールはすぐ削除する。 2. 業務用と私用のメールアドレスを分ける。 3. 電子メールソフトは、使いやすいものを使う。
17	<p>フォルダやファイルを階層構造で整理すると階層が深くなって分かりにくくなる場合がありますが、それを解決する方法としてよく使われるWindowsの機能はどれですか。次の中から選びなさい。</p>	<ol style="list-style-type: none"> 1. ショートカット 2. 仮想フォルダ 3. ハイパーリンク
18	<p>国のIT戦略として、e-JAPAN戦略に続く、2006年1月に策定された新たな戦略は何と呼ばれますか。次の中から選びなさい。</p>	<ol style="list-style-type: none"> 1. e-JAPAN戦略 2. IT新改革戦略 3. IT推進戦略
19	<div style="display: flex; align-items: center;">  <div style="margin-left: 20px;"> <p>使用中のパソコン画面です。何の作業をしていますか。次の中から最も適切なものを選びなさい。</p> </div> </div>	<ol style="list-style-type: none"> 1. サーバのメンテナンス 2. Webサイトの更新 3. セキュリティの管理
20	<div style="display: flex; align-items: center;">  <div style="margin-left: 20px;"> <p>右側にある機器はサーバです。左側にある機器の名称を次の中から選びなさい。</p> </div> </div>	<ol style="list-style-type: none"> 1. UPS 2. TIF 3. SSL